



1.º DESAFIO RODOVIÁRIO



3º CICLO DO ENSINO BÁSICO



1

Qual destas afirmações é correta sobre a circulação de um ciclomotor?  



- ☐ Pode circular livremente na Via Rápida.
- ☐ Pode circular nas vias reservadas a automóveis e motociclos.
- ☐ Pode circular nos passeios se não houver trânsito.
- ☐ Pode circular a par com outro ciclomotor na mesma via.
- ☒ Não pode circular na Via Rápida nem vias reservadas a automóveis e motociclos.

2

Uma trotineta elétrica que consiga ultrapassar os 25 km/h deve ser considerada legalmente como:  



- ☐ Bicicleta elétrica
- ☐ Equipamento de mobilidade pessoal
- ☐ Brinquedo de uso recreativo
- ☒ Ciclomotor
- ☐ Veículo agrícola

VENCEDOR(A)

O aluno que respondeu acertadamente às duas questões, selecionado aleatoriamente, foi o Vasco Maria de Oliveira Abreu, da EB 2,3 Dr. Horácio Bento de Gouveia.

(Sorteio gerado aleatoriamente por Inteligência Artificial)